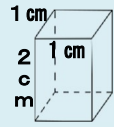
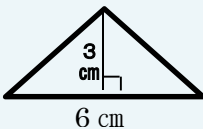
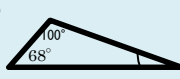
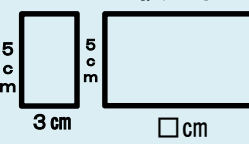

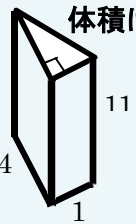


月	火	水	木	金	土	日															
				1 $10 \times 0.1$	2  体積は？	③ $1.8 \div 0.6$															
4 内角の和が $360^\circ$ になるのは □角形？	5 10までの自然数 の中で偶数の数 は？	6 $\frac{25}{6} + \frac{11}{6}$	7 5点、9点、6点、 8点テストの平 均点は？	8 16と24の最大公約 数は？	9 面積は？ 	10 20人のうち2人が 成功。 成功率は？ $\frac{1}{\square}$															
11 円周 69.08 の円 の半径は？	12 	13 $3 + 6.3 + 3.7 =$	14 1.4を10倍した 数は？	15 面積5倍 	16 $\frac{3}{4} \times \frac{64}{3}$	17 $\frac{34}{3} \div \frac{2}{3}$															
18 拡大 	19 $y = 2x$ のとき $y = 38$ なら $x = ?$	20 $3 : 5 = 12 : \square$	21 $35 \times \frac{3}{5}$	22 体積は？ 	④ 2時間で46km進んだ ときの時速は？	24 男子4人、女子6人 の中から1人ずつ 選ぶ選び方は？															
25 $250 \text{ dL} = \square \text{ L}$	26 比例のグラフ <table border="1" data-bbox="392 1300 638 1404"> <tr><td>x</td><td>1</td><td>2</td><td>13</td></tr> <tr><td>y</td><td>2</td><td>4</td><td>□</td></tr> </table>	x	1	2	13	y	2	4	□	27 反比例のグラフ <table border="1" data-bbox="660 1300 918 1404"> <tr><td>x</td><td>1</td><td>2</td><td>3</td></tr> <tr><td>y</td><td>54</td><td>□</td><td>18</td></tr> </table>	x	1	2	3	y	54	□	18	28 時速 14 km/h で 2 時間移動した。 何km移動した？	29 $1.5 \times \frac{58}{3}$	30 1から6が書いてあ る6枚のカードがあ る。2つ並べて数字 を作るとき何通りの 数ができるか？（重 複不可）
x	1	2	13																		
y	2	4	□																		
x	1	2	3																		
y	54	□	18																		